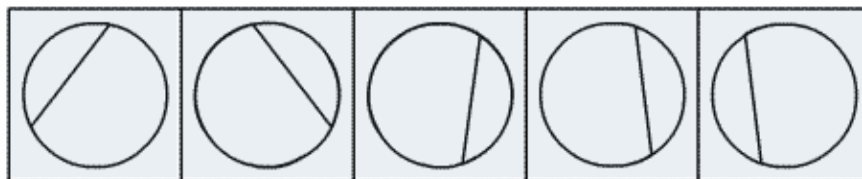
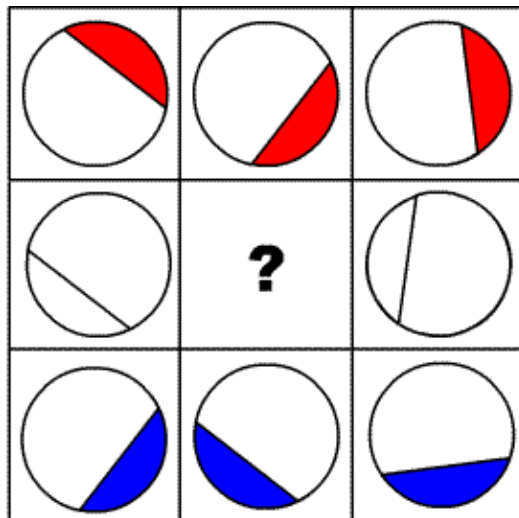


Slappna av, ha trevligt, och försök göra ditt absolut bästa. Kryssa i rätt svarsalternativ efter varje fråga. Använd hellre "vet inte" än att gissa. Stanna inte till för länge vid varje fråga, utan gå vidare och återvänd i mån av tid (lite mindre än en minut per fråga). Svara precis innan du lämnar in på de två sista frågorna längst bak.

1. öken är till en oasis som havet är till..

- vatten
- sand
- sjö
- ö
- vet inte

2. Vilket svarsalternativ följer logiskt i figuren?



- A
- B
- C
- D
- E
- Vet inte

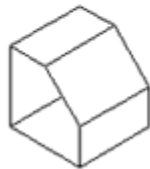
3. Välj en slutsats som logiskt följer av påståendena:

Alla kattungar är lekfulla
En del husdjur är kattungar

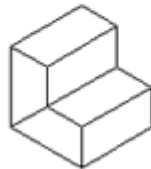
således..

- Alla kattungar är husdjur
- Alla husdjur är kattungar
- Alla husdjur är lekfulla
- En del husdjur är lekfulla
- Vet inte

4. Vilket föremål formas om du viker efter anvisningen nedan?



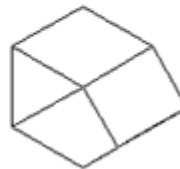
A



B



C



D

- A
- B
- C
- D
- Vet inte

5. Vilket svarsalternativ beskriver ordet ekvivalent bäst?

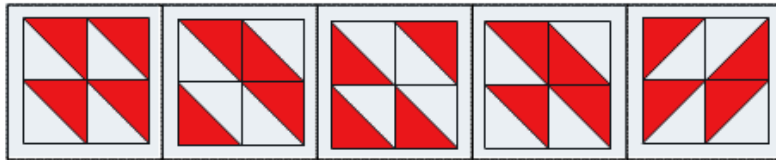

- likvärdig
- oskiljbar
- antonym
- ytspänning
- Vet inte

6. Forma ett ord av bokstäverna nedan och välj rätt kategori.

FGAFRI

- Popstjärna
- Djur
- Stad
- Kemiskt ämne
- Vet inte

7. Vilket svarsalternativ under följer logiskt i figuren?



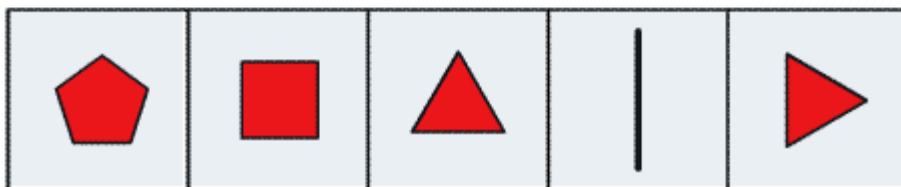
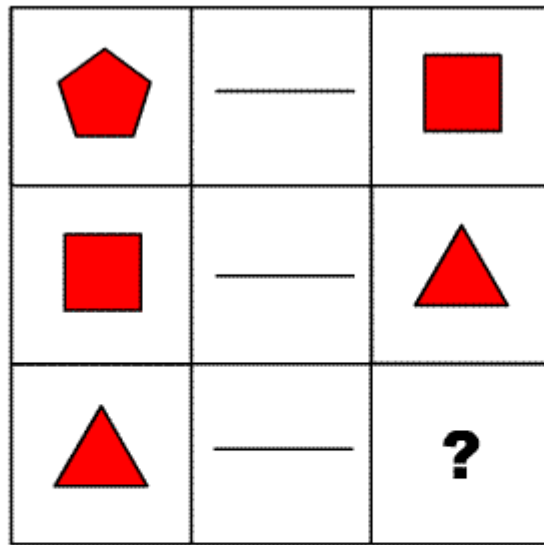
- A B C D E Vet inte

8. Vilket svarsalternativ beskriver ordparet mest adekvat?

mikrofon - mobil

- båda används i nyheter
 båda samlar in information
 båda påverkar människor
 båda används ofta i smyg
 Vet inte

9. Vilket svarsalternativ passar mest logiskt i figuren?

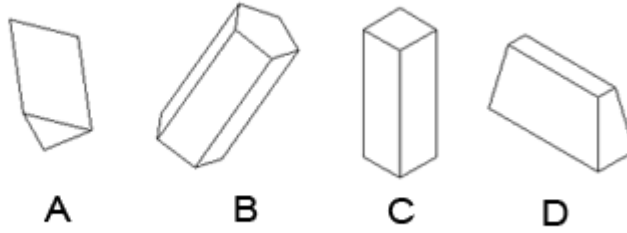



- A B C D E Vet inte

10. En bonde bygger ett öppet stängsel med 25m mellan varje stolpe. Om stängslet är 100m, hur många stolpar måste användas?

- 3
 4
 5
 6
 Vet inte

11. Vilken figur uppstår om du viker enligt anvisning nedan?



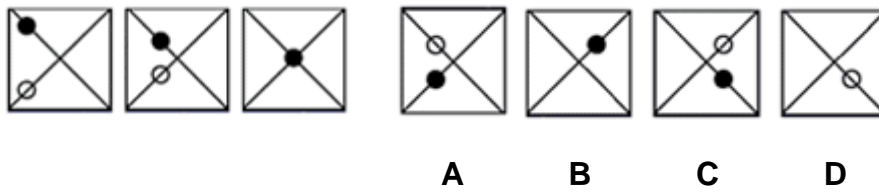
- A
- B
- C
- D
- Vet inte

12. Forma ett ord av fem av bokstäverna nedan (en bokstav används inte) och passa in i rätt kategori.

PRASEI

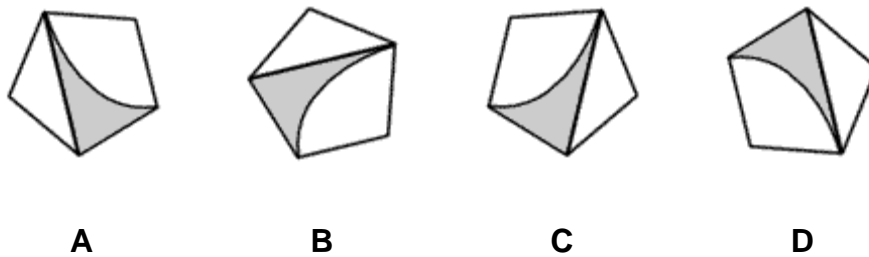
- Teknisk apparat
- Djur
- Weekendresa
- Grönsak
- Vet inte

13. Vilket mönster kompletterar serien bäst?



- A
- B
- C
- D
- Vet inte

14. Vilken figur hör inte hit?



- A
- B
- C
- D
- Vet inte

15. Real Madrid ligger först i spanska fotbollsligan och Real Betis ligger femma, medan Osasuna ligger precis mitt emellan dem. Om Barcelona har fler poäng än Celta Vigo och Celta Vigo ligger precis bakom Osasuna vem ligger då tvåa i tabellen?

- Barcelona
- Osasuna
- Real Madrid
- Celta Vigo
- Vet inte

16. Vilket svarsalternativ beskriver ordet förringa bäst?

- degradera
- bryta av
- bortse från
- ta bort
- Vet inte

17. Om dagen innan igår är två dagar efter måndag, vilken dag är det idag?

- Lördag
- Söndag
- Onsdag
- Fredag
- Vet inte

18. Joe var både 5:e från toppen och 5:e från botten. Hur många var med i tävlingen?

- 8
- 9
- 10
- 11
- Vet inte

19. Vilken hör inte hit?



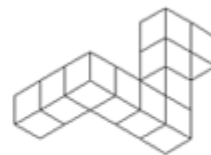
A



B



C



D

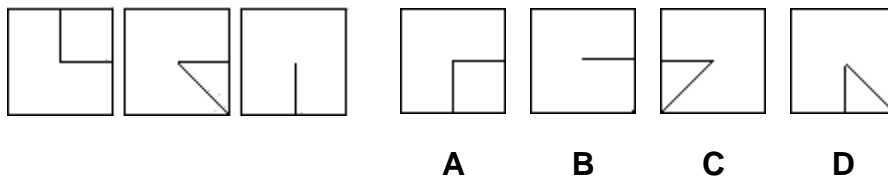
- A
- B
- C
- D
- Vet inte

20. Vilket nummer följer härnäst?

3, 9, 6, 12, 9, 15, 12, 18

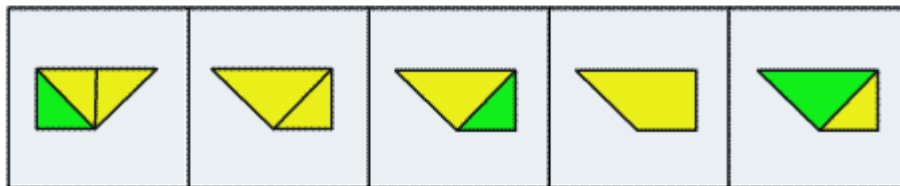
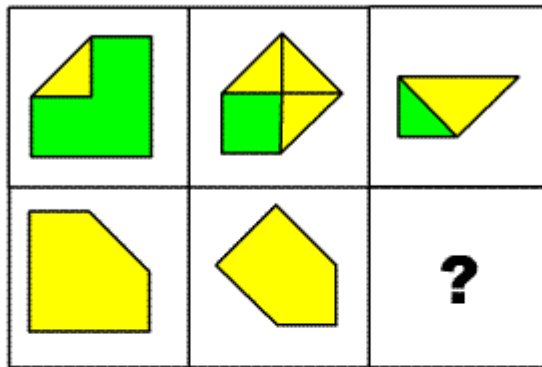
- 11
- 14
- 15
- 21
- Vet inte

21. Vilket alternativ följer logiskt?



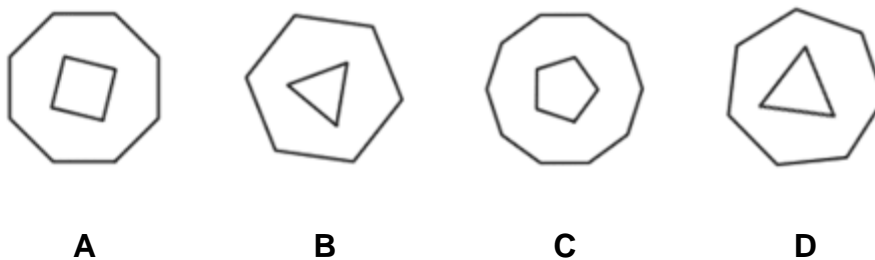
- A
- B
- C
- D
- Vet inte

22. Vilket av svarsalternativen följer logiskt figuren?



- A
 B
 C
 D
 E
 Vet inte

23. Vilken hör inte hit?

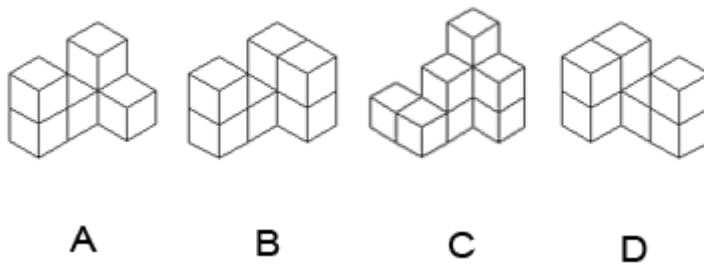
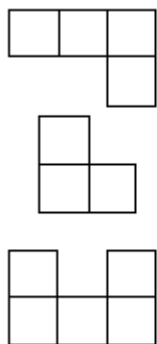


- A
 B
 C
 D
 Vet inte

24. Kram är mot mark som mim är mot

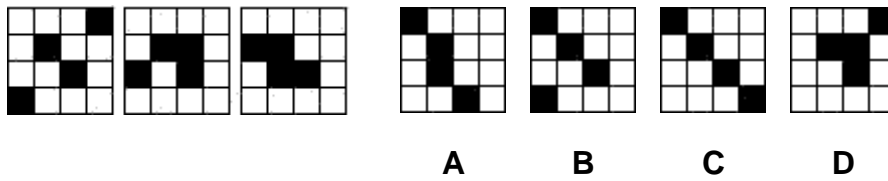
- mask
- mim
- tam
- rörelse
- Vet inte

25. Vilken av svarsalternativen motsvarar figuren sedd ur tre vinklar?



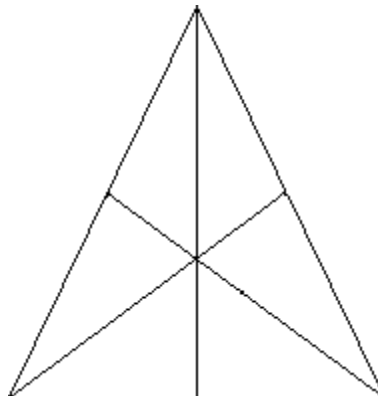
- A
- B
- C
- D
- Vet inte

26. Vilket svart mönster följer efter den tredje förflyttningen?



- A
- B
- C
- D
- Vet inte

27. Hur många trianglar finns i diagrammet nedan?

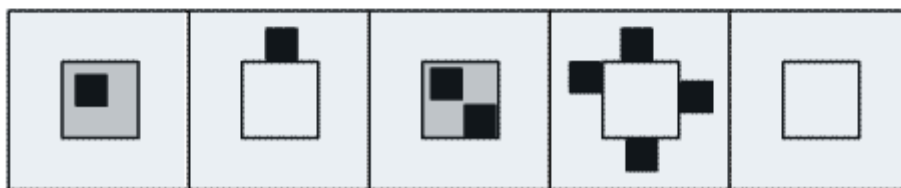



- 5-7
- 8-10
- 11-14
- 15-17
- Vet inte

28. Om två dataprogrammerare skriver två sidor på fem minuter, hur många dataprogrammerare behövs för att skriva tjugo sidor på tio minuter?

- 20
- 10
- 11
- 15
- Vet inte

29. Vilket av svarsalternativen följer logiskt figuren?



- A
- B
- C
- D
- E
- Vet ej

30. Om ett näckrosbälte utbreder sig exponentiellt (fördubblar ytan varje dygn), vid vilken dag har halva sjön täckts om hela sjön är täckt efter 50 dagar?

Svar:_____

Utvärderingsfråga: Hur svårt tyckte du testet var?

Inte så svårt 1.....2.....3.....4.....5 Väldigt svårt

Utvärderingsfråga: Hur många rätt av de 30 frågorna gissar du uppriktigt på att du har?

Svar:_____